

CAPÍTULO

3

Límite de una función

1

3.2 Álgebra de límites

Es bastante claro intuitivamente lo siguiente:

Si existen $\lim_{x \rightarrow x_0} f(x)$ y $\lim_{x \rightarrow x_0} g(x)$ entonces:

- $\lim_{x \rightarrow x_0} [f(x) + g(x)] = \lim_{x \rightarrow x_0} f(x) + \lim_{x \rightarrow x_0} g(x)$.
- $\lim_{x \rightarrow x_0} [f(x) - g(x)] = \lim_{x \rightarrow x_0} f(x) - \lim_{x \rightarrow x_0} g(x)$.
- $\lim_{x \rightarrow x_0} [f(x) \times g(x)] = \lim_{x \rightarrow x_0} f(x) \times \lim_{x \rightarrow x_0} g(x)$.
- $\lim_{x \rightarrow x_0} [f(x)/g(x)] = \lim_{x \rightarrow x_0} f(x) / \lim_{x \rightarrow x_0} g(x)$ si $\lim_{x \rightarrow x_0} g(x) \neq 0$.

Esto es, que si $f(x)$ y también $g(x)$ están tan cerca de α y β , respectivamente, como queramos para valores de x próximos a x_0 , entonces:

$f(x) + g(x)$	está tan próximo a	$\alpha + \beta$	como queramos con tal de que x esté suficientemente próximo a x_0 ;
$f(x) - g(x)$	"	$\alpha - \beta$	idem.
$f(x) \times g(x)$	"	$\alpha \times \beta$	idem.
$f(x)/g(x)$	"	α/β	idem.

Este hecho se puede extender para sumas y productos de más de dos funciones. En el caso del cociente β tiene que ser $\neq 0$. Si $\beta = 0$, la afirmación no tiene sentido.

¹canek.azc.uam.mx: 22/ 5/ 2008

Ejemplo 3.2.1 Considerando que

$$\lim_{x \rightarrow -3} f(x) = 4, \quad \lim_{x \rightarrow -3} g(x) = -2 \quad \& \quad \lim_{x \rightarrow -3} h(x) = 0,$$

calcular los límites que existan de la siguiente lista. Si el límite no existe argumentar por qué.

1. $\lim_{x \rightarrow -3} [f(x) + g(x)];$

4. $\lim_{x \rightarrow -3} \frac{g(x)}{h(x)};$

2. $\lim_{x \rightarrow -3} \frac{f(x)}{g(x)};$

3. $\lim_{x \rightarrow -3} [g(x)h(x)];$

5. $\lim_{x \rightarrow -3} \frac{h(x)}{g(x) - f(x)}.$



1. $\lim_{x \rightarrow -3} [f(x) + g(x)] = \lim_{x \rightarrow -3} f(x) + \lim_{x \rightarrow -3} g(x) = 4 + (-2) = 4 - 2 = 2.$

2. $\lim_{x \rightarrow -3} \frac{f(x)}{g(x)} = \frac{\lim_{x \rightarrow -3} f(x)}{\lim_{x \rightarrow -3} g(x)} = \frac{4}{-2} = -2.$

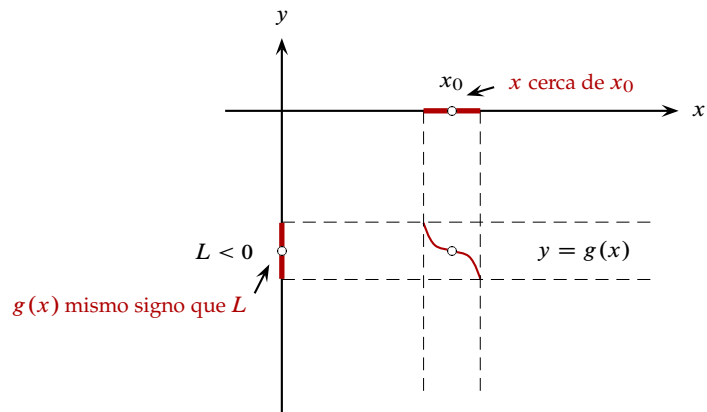
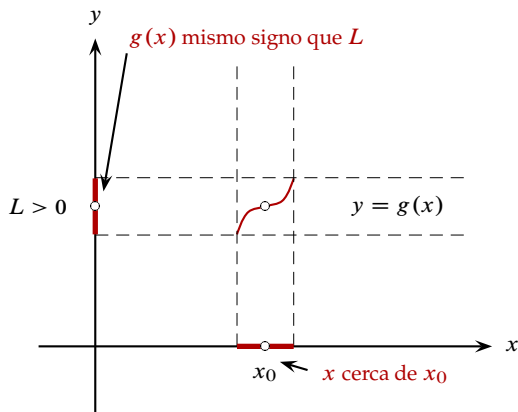
3. $\lim_{x \rightarrow -3} [g(x)h(x)] = [\lim_{x \rightarrow -3} g(x)][\lim_{x \rightarrow -3} h(x)] = (-2)(0) = 0.$

4. $\lim_{x \rightarrow -3} \frac{g(x)}{h(x)} = \left(\frac{-2}{0} \right) \notin \mathbb{R}.$ $\lim_{x \rightarrow -3} \frac{g(x)}{h(x)}$ no existe como veremos más adelante.

5. $\lim_{x \rightarrow -3} \frac{h(x)}{g(x) - f(x)} = \frac{\lim_{x \rightarrow -3} h(x)}{\lim_{x \rightarrow -3} [g(x) - f(x)]} = \frac{\lim_{x \rightarrow -3} h(x)}{\lim_{x \rightarrow -3} g(x) - \lim_{x \rightarrow -3} f(x)} = \frac{0}{-2 - 4} = \frac{0}{-6} = 0.$



- También es cierto que si $\lim_{x \rightarrow x_0} g(x) = L$ y $L \neq 0$, entonces "cerca" de x_0 las imágenes $g(x)$ tienen el mismo signo que L .



- Uno de los casos más simples en el cálculo de límites es el de una función constante $f(x) = \gamma$ en el que para cualquier $x_0 \in \mathbb{R}$,

$$\lim_{x \rightarrow x_0} f(x) = \lim_{x \rightarrow x_0} \gamma = \gamma.$$

Ejemplo 3.2.2 Tenemos que:



1. $\lim_{x \rightarrow 4} 5 = 5;$
2. $\lim_{x \rightarrow -7} 8 = 8;$
3. $\lim_{x \rightarrow 3} -2 = -2.$



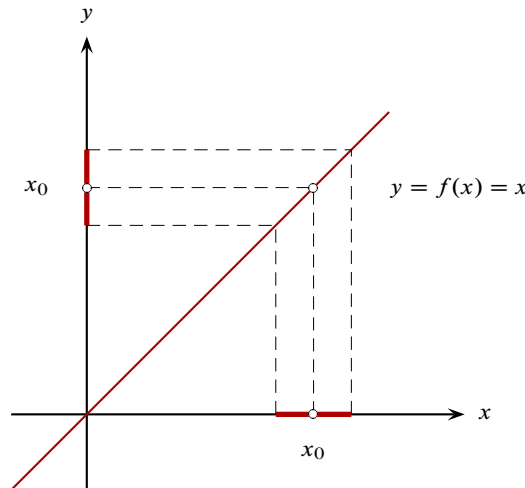
Entonces:

- $\lim_{x \rightarrow x_0} [\beta \times f(x)] = \beta \times \lim_{x \rightarrow x_0} f(x).$

En particular de $\beta = -1$, tenemos $\lim_{x \rightarrow x_0} [-f(x)] = - \lim_{x \rightarrow x_0} f(x).$

Otro caso muy simple es el de la función identidad $f(x) = x$; aquí evidentemente

- $\lim_{x \rightarrow x_0} f(x) = \lim_{x \rightarrow x_0} x = x_0$ para cualquier $x_0 \in \mathbb{R}.$



Y en consecuencia:

- Si $g(x) = mx + n$, entonces $\lim_{x \rightarrow x_0} g(x) = mx_0 + n$ para cualquier $x_0 \in \mathbb{R}.$
- Si $h(x) = x^n$ con $n \in \mathbb{N}$, entonces $\lim_{x \rightarrow x_0} h(x) = x_0^n$, para cualquier $x_0 \in \mathbb{R}.$

Además:

- Si $\lim_{x \rightarrow x_0} f(x) = \alpha$, entonces $\lim_{x \rightarrow x_0} [f(x)]^n = \alpha^n$, para cualquier $n \in \mathbb{N}.$

Dos resultados muy importantes son:

- Si $f(x)$ es una función polinomial y además $x_0 \in \mathbb{R}$, entonces $\lim_{x \rightarrow x_0} f(x) = f(x_0).$
- Si $f(x)$ es una función racional y además $x_0 \in D_f$, entonces $\lim_{x \rightarrow x_0} f(x) = f(x_0).$

Ejemplo 3.2.3 Dada la función $f(x) = 2x^3 + 3x^2 - 4x - 5$, calcular los límites siguientes:

- | | |
|------------------------------------|--|
| 1. $\lim_{x \rightarrow -1} f(x);$ | 4. $\lim_{x \rightarrow \frac{1}{2}} f(x);$ |
| 2. $\lim_{x \rightarrow 2} f(x);$ | 5. $\lim_{x \rightarrow -\frac{3}{2}} f(x);$ |
| 3. $\lim_{x \rightarrow 0} f(x);$ | 6. $\lim_{x \rightarrow -\frac{2}{3}} f(x).$ |

▼ Por ser f una función polinomial:

- $\lim_{x \rightarrow -1} f(x) = f(-1) = 2(-1)^3 + 3(-1)^2 - 4(-1) - 5 = -2 + 3 + 4 - 5 = 0.$
- $\lim_{x \rightarrow 2} f(x) = f(2) = 2(2)^3 + 3(2)^2 - 4(2) - 5 = 16 + 12 - 8 - 5 = 15.$
- $\lim_{x \rightarrow 0} f(x) = f(0) = 2(0)^3 + 3(0)^2 - 4(0) - 5 = 0 + 0 - 0 - 5 = -5.$
- $\lim_{x \rightarrow \frac{1}{2}} f(x) = f\left(\frac{1}{2}\right) = 2\left(\frac{1}{2}\right)^3 + 3\left(\frac{1}{2}\right)^2 - 4\left(\frac{1}{2}\right) - 5 = \frac{1}{4} + \frac{3}{4} - 2 - 5 = -6.$

5.

$$\begin{aligned} \lim_{x \rightarrow -\frac{3}{2}} f(x) &= f\left(-\frac{3}{2}\right) = 2\left(-\frac{3}{2}\right)^3 + 3\left(-\frac{3}{2}\right)^2 - 4\left(-\frac{3}{2}\right) - 5 = \\ &= 2\left(-\frac{27}{8}\right) + 3\left(\frac{9}{4}\right) + 6 - 5 = \\ &= -\frac{27}{4} + \frac{27}{4} + 6 - 5 = 1. \end{aligned}$$

6.

$$\begin{aligned} \lim_{x \rightarrow -\frac{2}{3}} f(x) &= f\left(-\frac{2}{3}\right) = 2\left(-\frac{2}{3}\right)^3 + 3\left(-\frac{2}{3}\right)^2 - 4\left(-\frac{2}{3}\right) - 5 = \\ &= 2\left(-\frac{8}{27}\right) + 3\left(\frac{4}{9}\right) + \frac{8}{3} - 5 = -\frac{16}{27} + \frac{4}{3} + \frac{8}{3} - 5 = -\frac{16}{27} + 4 - 5 = -\frac{43}{27}. \end{aligned}$$

□

Ejemplo 3.2.4 Dada la función $g(x) = \frac{4x^2 - 1}{x^2 - 4}$, calcular:

- | | |
|------------------------------------|--|
| 1. $\lim_{x \rightarrow 0} g(x);$ | 4. $\lim_{x \rightarrow \frac{1}{2}} g(x);$ |
| 2. $\lim_{x \rightarrow -1} g(x);$ | 5. $\lim_{x \rightarrow -\frac{2}{3}} g(x);$ |
| 3. $\lim_{x \rightarrow 3} g(x);$ | 6. $\lim_{x \rightarrow -\frac{1}{2}} g(x).$ |

▼ La función g es racional y su dominio es $D_g = \mathbb{R} - \{-2, 2\}$.

Por estar los números $0, -1, 3, \frac{1}{2}, -\frac{2}{3}$ y $-\frac{1}{2}$ en el dominio de la función g :

$$1. \lim_{x \rightarrow 0} g(x) = g(0) = \frac{4(0)^2 - 1}{0^2 - 4} = \frac{-1}{-4} = \frac{1}{4}.$$

$$2. \lim_{x \rightarrow -1} g(x) = g(-1) = \frac{4(-1)^2 - 1}{(-1)^2 - 4} = \frac{4 - 1}{1 - 4} = \frac{3}{-3} = -1.$$

$$3. \lim_{x \rightarrow 3} g(x) = g(3) = \frac{4(3)^2 - 1}{(3)^2 - 4} = \frac{36 - 1}{9 - 4} = \frac{35}{5} = 7.$$

$$4. \lim_{x \rightarrow \frac{1}{2}} g(x) = g\left(\frac{1}{2}\right) = \frac{4\left(\frac{1}{2}\right)^2 - 1}{\left(\frac{1}{2}\right)^2 - 4} = \frac{1 - 1}{\frac{1}{4} - 4} = \frac{0}{-\frac{15}{4}} = 0.$$

$$5. \lim_{x \rightarrow -\frac{2}{3}} g(x) = g\left(-\frac{2}{3}\right) = \frac{4\left(-\frac{2}{3}\right)^2 - 1}{\left(-\frac{2}{3}\right)^2 - 4} = \frac{\frac{16}{9} - 1}{\frac{4}{9} - 4} = \frac{\frac{7}{9}}{-\frac{32}{9}} = -\frac{7}{32}.$$

$$6. \lim_{x \rightarrow -\frac{1}{2}} g(x) = g\left(-\frac{1}{2}\right) = \frac{4\left(-\frac{1}{2}\right)^2 - 1}{\left(-\frac{1}{2}\right)^2 - 4} = \frac{1 - 1}{\frac{1}{4} - 4} = \frac{0}{-\frac{15}{4}} = 0.$$

De 4. y de 6. se desprende que $\lim_{x \rightarrow -\frac{1}{2}} g(x) = \lim_{x \rightarrow \frac{1}{2}} g(x)$, lo cual es consistente pues $g(x)$ es par. □

Otro resultado también importante es

- Si $\lim_{x \rightarrow x_0} g(x) = 0$ y si $\lim_{x \rightarrow x_0} \frac{f(x)}{g(x)}$ existe, entonces $\lim_{x \rightarrow x_0} f(x) = 0$.

Este resultado usualmente se aplica de la siguiente forma:

- Si $\lim_{x \rightarrow x_0} g(x) = 0$ y si $\lim_{x \rightarrow x_0} f(x) \neq 0$, entonces $\lim_{x \rightarrow x_0} \frac{f(x)}{g(x)}$ no existe.

Ejemplo 3.2.5 Dada la función $f(x) = \frac{4x}{2x - 1}$, calcular $\lim_{x \rightarrow \frac{1}{2}} f(x)$.

▼ Notamos primero que $\lim_{x \rightarrow \frac{1}{2}} (2x - 1) = 2 \left(\frac{1}{2} \right) - 1 = 1 - 1 = 0$ y luego que $\lim_{x \rightarrow \frac{1}{2}} (4x) = 4 \left(\frac{1}{2} \right) = 2 \neq 0$.

Podemos afirmar entonces que $\lim_{x \rightarrow \frac{1}{2}} f(x)$ no existe.

□

Próximamente diremos algo más del $\lim_{x \rightarrow x_0} \frac{f(x)}{g(x)}$, cuando $\lim_{x \rightarrow x_0} g(x) = 0$ y $\lim_{x \rightarrow x_0} f(x) \neq 0$ al ver límites infinitos.

- Si $\lim_{x \rightarrow x_0} g(x) = 0$ y si $\lim_{x \rightarrow x_0} f(x) = 0$, entonces $\lim_{x \rightarrow x_0} \frac{f(x)}{g(x)}$ puede o no existir.

A este resultado algunos autores le llaman indeterminación cero sobre cero: “ $\left(\frac{0}{0} \right)$ ”.

Ejemplo 3.2.6 Dada la función $f(x) = \frac{x^2 - x - 6}{x^2 - 4}$, calcular $\lim_{x \rightarrow -2} f(x)$.

▼ Primero notamos que $\lim_{x \rightarrow -2} (x^2 - 4) = (-2)^2 - 4 = 4 - 4 = 0$.

Luego notamos que

$$\lim_{x \rightarrow -2} (x^2 - x - 6) = (-2)^2 - (-2) - 6 = 4 + 2 - 6 = 0.$$

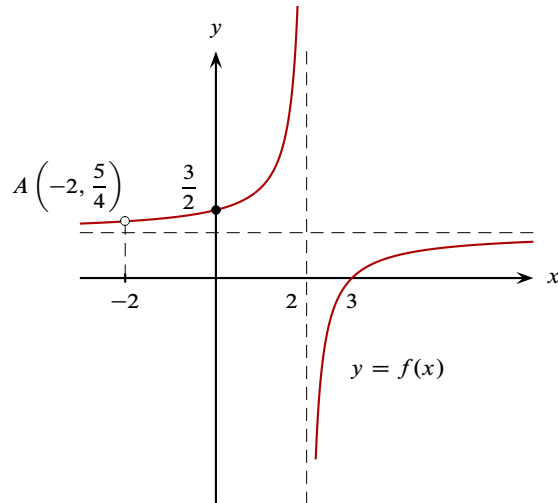
Entonces, puede ser que exista $\lim_{x \rightarrow -2} f(x)$.

Como $x = -2$ anula tanto a $x^2 - 4$ como a $x^2 - x - 6$, entonces $x - (-2) = x + 2$ es factor de ambos polinomios por el teorema del Residuo. Por lo tanto, después de factorizar,

$$\begin{aligned} \lim_{x \rightarrow -2} f(x) &= \lim_{x \rightarrow -2} \frac{x^2 - x - 6}{x^2 - 4} = \lim_{x \rightarrow -2} \frac{(x + 2)(x - 3)}{(x + 2)(x - 2)} = \lim_{x \rightarrow -2} \frac{x - 3}{x - 2} = \\ &= \frac{\lim_{x \rightarrow -2} (x - 3)}{\lim_{x \rightarrow -2} (x - 2)} = \frac{-2 - 3}{-2 - 2} = \frac{-5}{-4} = \frac{5}{4}. \end{aligned}$$

Pudimos cancelar el factor $x + 2$ en numerador y en denominador pues al calcular el límite hallamos que $x + 2 \neq 0$ al ser $x \neq -2$.

Comentario: puesto que $f(-2)$ no existe y que $\lim_{x \rightarrow -2} f(x) = \frac{5}{4}$, entonces podemos visualizar que la gráfica de f tiene un orificio en el punto $A \left(-2, \frac{5}{4} \right)$.



□

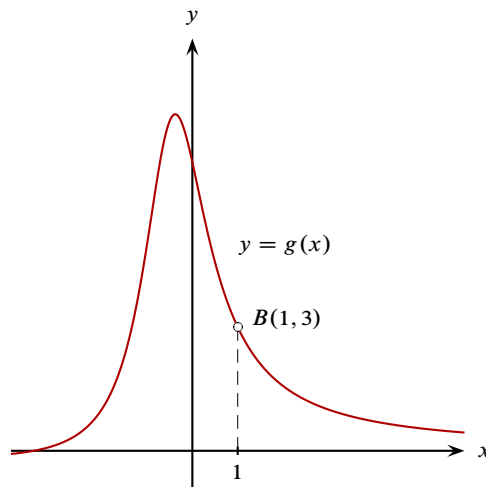
Ejemplo 3.2.7 Dada la función $g(x) = \frac{2x^2 + 5x - 7}{x^3 - 1}$, calcular $\lim_{x \rightarrow 1} g(x)$.

▼ Primero notamos que $\lim_{x \rightarrow 1} (x^3 - 1) = 1^3 - 1 = 0$ y luego que $\lim_{x \rightarrow 1} (2x^2 + 5x - 7) = 2 + 5 - 7 = 0$. Entonces puede ser que exista $\lim_{x \rightarrow 1} g(x)$.

Como $x = 1$ anula tanto a $2x^2 + 5x - 7$ como a $x^3 - 1$, entonces $x - 1$ es factor de ambos polinomios. Por lo tanto,

$$\begin{aligned} \lim_{x \rightarrow 1} g(x) &= \lim_{x \rightarrow 1} \frac{2x^2 + 5x - 7}{x^3 - 1} = \lim_{x \rightarrow 1} \frac{(x - 1)(2x + 7)}{(x - 1)(x^2 + x + 1)} = \\ &= \lim_{x \rightarrow 1} \frac{2x + 7}{x^2 + x + 1} = \frac{\lim_{x \rightarrow 1} (2x + 7)}{\lim_{x \rightarrow 1} (x^2 + x + 1)} = \frac{2 + 7}{1 + 1 + 1} = \frac{9}{3} = 3. \end{aligned}$$

Comentario: como $g(1)$ no existe y $\lim_{x \rightarrow 1} g(x) = 3$, entonces podemos concluir que la gráfica de g tiene un orificio en el punto $B(1, 3)$.



□

Ejemplo 3.2.8 Dada $h(x) = \frac{x^3 + 5x^2 + 3x - 9}{x^3 + 27}$, calcular $\lim_{x \rightarrow -3} h(x)$.

▼ Notamos primero que

$$\lim_{x \rightarrow -3} (x^3 + 27) = (-3)^3 + 27 = -27 + 27 = 0$$

y luego que

$$\lim_{x \rightarrow -3} (x^3 + 5x^2 + 3x - 9) = (-3)^3 + 5(-3)^2 + 3(-3) - 9 = -27 + 45 - 9 - 9 = 0.$$

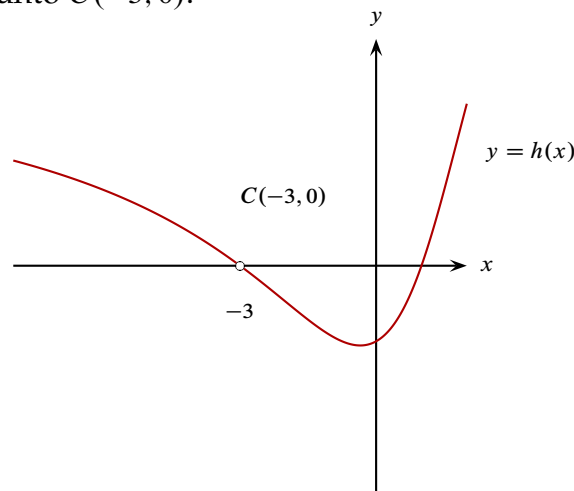
Puede suceder entonces que exista $\lim_{x \rightarrow -3} h(x)$.

Como $x = -3$ anula tanto al numerador como al denominador, entonces $x + 3$ es factor de ambos polinomios. Recuérdese que, en cada caso, el otro factor se puede obtener dividiendo el polinomio entre el factor $x + 3$.

Por lo tanto,

$$\begin{aligned} \lim_{x \rightarrow -3} h(x) &= \lim_{x \rightarrow -3} \frac{x^3 + 5x^2 + 3x - 9}{x^3 + 27} = \lim_{x \rightarrow -3} \frac{(x + 3)(x^2 + 2x - 3)}{(x + 3)(x^2 - 3x + 9)} = \\ &= \lim_{x \rightarrow -3} \frac{x^2 + 2x - 3}{x^2 - 3x + 9} = \frac{\lim_{x \rightarrow -3} (x^2 + 2x - 3)}{\lim_{x \rightarrow -3} (x^2 - 3x + 9)} = \frac{(-3)^2 + 2(-3) - 3}{(-3)^2 - 3(-3) + 9} = \\ &= \frac{9 - 6 - 3}{9 + 9 + 9} = \frac{0}{27} = 0. \end{aligned}$$

Comentario: ya que $h(-3)$ no existe y que $\lim_{x \rightarrow -3} h(x) = 0$, entonces se puede afirmar que la curva $y = h(x)$ tiene un orificio en el punto $C(-3, 0)$.



□

Ejemplo 3.2.9 Dada $g(x) = \frac{x^2 - 1}{x^2 + 2x + 1}$, calcular $\lim_{x \rightarrow -1} g(x)$.

▼ Notamos primero que

$$\lim_{x \rightarrow -1} (x^2 + 2x + 1) = (-1)^2 + 2(-1) + 1 = 1 - 2 + 1 = 0$$

y luego que

$$\lim_{x \rightarrow -1} (x^2 - 1) = (-1)^2 - 1 = 1 - 1 = 0.$$

Entonces puede ser que exista $\lim_{x \rightarrow -1} g(x)$.

Factorizando numerador y denominador:

$$\lim_{x \rightarrow -1} g(x) = \lim_{x \rightarrow -1} \frac{x^2 - 1}{x^2 + 2x + 1} = \lim_{x \rightarrow -1} \frac{(x + 1)(x - 1)}{(x + 1)(x + 1)} = \lim_{x \rightarrow -1} \frac{x - 1}{x + 1}.$$

Ahora notamos que

$$\lim_{x \rightarrow -1} (x + 1) = -1 + 1 = 0$$

y que

$$\lim_{x \rightarrow -1} (x - 1) = -1 - 1 = -2 \neq 0.$$

Entonces sucede que $\lim_{x \rightarrow -1} \frac{x - 1}{x + 1}$ no existe.

Por lo tanto $\lim_{x \rightarrow -1} g(x)$ no existe. □

Ejemplo 3.2.10 Calcular $\lim_{x \rightarrow 1} \left(\frac{1}{1 - x} - \frac{3}{1 - x^3} \right)$.

▼ Ya que $\lim_{x \rightarrow 1} (1 - x) = 0$ y que $\lim_{x \rightarrow 1} (1 - x^3) = 0$ y también que tanto $\lim_{x \rightarrow 1} 1 = 1$ como $\lim_{x \rightarrow 1} 3 = 3$ son distintos de cero, no podemos expresar el límite pedido como la diferencia de límites:

$$\lim_{x \rightarrow 1} \left(\frac{1}{1 - x} - \frac{3}{1 - x^3} \right) = \lim_{x \rightarrow 1} \frac{1}{1 - x} - \lim_{x \rightarrow 1} \frac{3}{1 - x^3},$$

pues estos últimos no existen. Entonces, procedemos algebraicamente. Primero sumamos las fracciones y luego simplificamos.

$$\begin{aligned} \frac{1}{1 - x} - \frac{3}{1 - x^3} &= \frac{1}{1 - x} - \frac{3}{(1 - x)(1 + x + x^2)} = \\ &= \frac{(1 + x + x^2) - 3}{(1 - x)(1 + x + x^2)} = \frac{x^2 + x - 2}{(1 - x)(1 + x + x^2)} = \\ &= \frac{(x - 1)(x + 2)}{-(x - 1)(1 + x + x^2)} = \\ &= \frac{x + 2}{-(1 + x + x^2)} \text{ si } x - 1 \neq 0, \text{ es decir, si } x \neq 1. \end{aligned}$$

Luego

$$\begin{aligned} \lim_{x \rightarrow 1} \left(\frac{1}{1 - x} - \frac{3}{1 - x^3} \right) &= \lim_{x \rightarrow 1} \frac{x + 2}{-(1 + x + x^2)} = \frac{\lim_{x \rightarrow 1} (x + 2)}{\lim_{x \rightarrow 1} [-(1 + x + x^2)]} = \\ &= \frac{\lim_{x \rightarrow 1} (x + 2)}{-\lim_{x \rightarrow 1} (1 + x + x^2)} = \frac{1 + 2}{-(1 + 1 + 1)} = \frac{3}{-3} = -1. \end{aligned}$$

□

Otras reglas importantes para el cálculo de límites son las siguientes:

$$\bullet f(x) = \sqrt[n]{x} \Rightarrow \lim_{x \rightarrow x_0} f(x) = \sqrt[n]{x_0}.$$

Si n es par se requiere que $x_0 > 0$.

$$\bullet \frac{m}{n} \in \mathbb{Q} \text{ y } f(x) = x^{\frac{m}{n}} \Rightarrow \lim_{x \rightarrow x_0} f(x) = x_0^{\frac{m}{n}}.$$

Si n es par se requiere que $x_0 > 0$.

• Si $n \in \mathbb{N}$ es impar o bien $\lim_{x \rightarrow x_0} f(x) > 0$ cuando $n \in \mathbb{N}$ sea par, entonces

$$\lim_{x \rightarrow x_0} \sqrt[n]{f(x)} = \sqrt[n]{\lim_{x \rightarrow x_0} f(x)}.$$

Si n es par se requiere que $\lim_{x \rightarrow x_0} f(x) > 0$.

• Si $f(x) \leq h(x) \leq g(x)$ para x en un intervalo abierto que contiene a x_0 y

$$\lim_{x \rightarrow x_0} f(x) = \lim_{x \rightarrow x_0} g(x) = \alpha \Rightarrow \lim_{x \rightarrow x_0} h(x) = \alpha.$$

Ejemplo 3.2.11 Dadas las funciones $f(x) = \sqrt{x^3 + 1}$ & $g(x) = \sqrt[3]{4 - 3x^2}$, calcular

- | | |
|------------------------------------|--|
| 1. $\lim_{x \rightarrow 2} f(x);$ | 4. $\lim_{x \rightarrow -1} g(x);$ |
| 2. $\lim_{x \rightarrow 2} g(x);$ | 5. $\lim_{x \rightarrow 0} [f(x) - g(x)];$ |
| 3. $\lim_{x \rightarrow -2} f(x);$ | 6. $\lim_{x \rightarrow -3} [f(x)g(x)].$ |



$$1. \lim_{x \rightarrow 2} f(x) = \lim_{x \rightarrow 2} \sqrt{x^3 + 1} = \sqrt{\lim_{x \rightarrow 2} (x^3 + 1)} = \sqrt{(2)^3 + 1} = \sqrt{8 + 1} = \sqrt{9} = 3.$$

$$2. \lim_{x \rightarrow 2} g(x) = \lim_{x \rightarrow 2} \sqrt[3]{4 - 3x^2} = \sqrt[3]{\lim_{x \rightarrow 2} (4 - 3x^2)} = \sqrt[3]{4 - 3(2)^2} = \sqrt[3]{4 - 12} = \sqrt[3]{-8} = -2.$$

3. Notamos primero que $\lim_{x \rightarrow -2} (x^3 + 1) = (-2)^3 + 1 = -8 + 1 = -7 < 0$ y afirmamos luego que $\lim_{x \rightarrow -2} f(x)$ no tiene sentido pues

$$D_f = \{x \in \mathbb{R} \mid x^3 + 1 \geq 0\} = \{x \in \mathbb{R} \mid x^3 \geq -1\} = [-1, +\infty)$$

y no contiene intervalos abiertos que contengan a -2 .

$$4. \lim_{x \rightarrow -1} g(x) = \lim_{x \rightarrow -1} \sqrt[3]{4 - 3x^2} = \sqrt[3]{\lim_{x \rightarrow -1} (4 - 3x^2)} = \\ = \sqrt[3]{4 - 3(-1)^2} = \sqrt[3]{4 - 3} = \sqrt[3]{1} = 1.$$

$$5. \lim_{x \rightarrow 0} f(x) = \lim_{x \rightarrow 0} \sqrt{x^3 + 1} = \sqrt{\lim_{x \rightarrow 0} (x^3 + 1)} = \sqrt{0^3 + 1} = \sqrt{1} = 1.$$

Por otra parte

$$\lim_{x \rightarrow 0} g(x) = \lim_{x \rightarrow 0} \sqrt[3]{4 - 3x^2} = \sqrt[3]{\lim_{x \rightarrow 0} (4 - 3x^2)} = \sqrt[3]{4 - 3(0)^2} = \sqrt[3]{4 - 0} = \sqrt[3]{4}.$$

Luego

$$\lim_{x \rightarrow 0} [f(x) - g(x)] = \lim_{x \rightarrow 0} f(x) - \lim_{x \rightarrow 0} g(x) = 1 - \sqrt[3]{4}.$$

6. Observamos que

$$D_{f \cdot g} = D_f \cap D_g = [-1, +\infty) \cap \mathbb{R} = [-1, +\infty)$$

y entonces calcular

$$\lim_{x \rightarrow -3} f(x)g(x)$$

no tiene sentido puesto que la función $f \cdot g$ no está definida cerca de -3 .

□

Ejemplo 3.2.12 Calcular $\lim_{x \rightarrow 4} \frac{4 - x}{2 - \sqrt{x}}$.

▼ Notamos primero que $\lim_{x \rightarrow 4} (2 - \sqrt{x}) = 2 - \sqrt{4} = 2 - 2 = 0$ y luego que $\lim_{x \rightarrow 4} (4 - x) = 4 - 4 = 0$. Observamos que podemos factorizar el numerador y entonces

$$\lim_{x \rightarrow 4} \frac{4 - x}{2 - \sqrt{x}} = \lim_{x \rightarrow 4} \left[\frac{2^2 - (\sqrt{x})^2}{2 - \sqrt{x}} \right] = \lim_{x \rightarrow 4} \frac{(2 - \sqrt{x})(2 + \sqrt{x})}{(2 - \sqrt{x})} = \\ = \lim_{x \rightarrow 4} (2 + \sqrt{x}) = 2 + \sqrt{4} = 2 + 2 = 4.$$

□

Ejemplo 3.2.13 Calcular $\lim_{x \rightarrow 0} \frac{\sqrt{3 - x} - \sqrt{3}}{x}$.

▼ Vemos primero que $\lim_{x \rightarrow 0} x = 0$ y luego que $\lim_{x \rightarrow 0} (\sqrt{3 - x} - \sqrt{3}) = \sqrt{3} - \sqrt{3} = 0$.

Usemos un artificio algebraico: racionalizamos al numerador para generar una diferencia de cuadrados (multiplicamos al numerador y al denominador por el "binomio conjugado" del numerador que

es $\neq 0$):

$$\begin{aligned}
 \lim_{x \rightarrow 0} \frac{\sqrt{3-x} - \sqrt{3}}{x} &= \lim_{x \rightarrow 0} \frac{\sqrt{3-x} - \sqrt{3}}{x} \frac{\sqrt{3-x} + \sqrt{3}}{\sqrt{3-x} + \sqrt{3}} = \\
 &= \lim_{x \rightarrow 0} \frac{(\sqrt{3-x})^2 - (\sqrt{3})^2}{x(\sqrt{3-x} + \sqrt{3})} = \lim_{x \rightarrow 0} \frac{(3-x) - 3}{x(\sqrt{3-x} + \sqrt{3})} = \\
 &= \lim_{x \rightarrow 0} \frac{-x}{x(\sqrt{3-x} + \sqrt{3})} = \\
 &= \lim_{x \rightarrow 0} \frac{-1}{\sqrt{3-x} + \sqrt{3}} = \frac{\lim_{x \rightarrow 0}(-1)}{\lim_{x \rightarrow 0}(\sqrt{3-x} + \sqrt{3})} = \\
 &= \frac{-1}{\sqrt{3-0} + \sqrt{3}} = \frac{-1}{\sqrt{3} + \sqrt{3}} = \frac{-1}{2\sqrt{3}} = -\frac{1}{2\sqrt{3}}.
 \end{aligned}$$

□

Ejemplo 3.2.14 Calcular $\lim_{x \rightarrow 3} \frac{\sqrt{x^2 - 2x + 6} - \sqrt{x^2 + 2x - 6}}{x^2 - 4x + 3}$.

▼ Notemos primero que

$$\lim_{x \rightarrow 3} (x^2 - 4x + 3) = 3^2 - 4(3) + 3 = 9 - 12 + 3 = 0.$$

Y luego observemos que

$$\lim_{x \rightarrow 3} \left(\sqrt{x^2 - 2x + 6} - \sqrt{x^2 + 2x - 6} \right) = \sqrt{9 - 6 + 6} - \sqrt{9 + 6 - 6} = 3 - 3 = 0.$$

Procedemos análogamente al ejemplo anterior racionalizando al numerador. Se multiplica y divide por $\sqrt{x^2 - 2x + 6} + \sqrt{x^2 + 2x - 6}$ que es una cantidad $\neq 0$ si consideramos que $x \neq 3$.

$$\begin{aligned}
 \lim_{x \rightarrow 3} \frac{\sqrt{x^2 - 2x + 6} - \sqrt{x^2 + 2x - 6}}{x^2 - 4x + 3} &= \\
 &= \lim_{x \rightarrow 3} \frac{\sqrt{x^2 - 2x + 6} - \sqrt{x^2 + 2x - 6}}{x^2 - 4x + 3} \frac{\sqrt{x^2 - 2x + 6} + \sqrt{x^2 + 2x - 6}}{\sqrt{x^2 - 2x + 6} + \sqrt{x^2 + 2x - 6}} = \\
 &= \lim_{x \rightarrow 3} \frac{(\sqrt{x^2 - 2x + 6})^2 - (\sqrt{x^2 + 2x - 6})^2}{(x^2 - 4x + 3)(\sqrt{x^2 - 2x + 6} + \sqrt{x^2 + 2x - 6})} = \\
 &= \lim_{x \rightarrow 3} \frac{(x^2 - 2x + 6) - (x^2 + 2x - 6)}{(x^2 - 4x + 3)(\sqrt{x^2 - 2x + 6} + \sqrt{x^2 + 2x - 6})} = \\
 &= \lim_{x \rightarrow 3} \frac{-4x + 12}{(x^2 - 4x + 3)(\sqrt{x^2 - 2x + 6} + \sqrt{x^2 + 2x - 6})} = \\
 &= \lim_{x \rightarrow 3} \frac{-4(x - 3)}{(x - 3)(x - 1)(\sqrt{x^2 - 2x + 6} + \sqrt{x^2 + 2x - 6})} = \\
 &= \lim_{x \rightarrow 3} \frac{-4}{(x - 1)(\sqrt{x^2 - 2x + 6} + \sqrt{x^2 + 2x - 6})} = \\
 &= \frac{\lim_{x \rightarrow 3} -4}{\lim_{x \rightarrow 3} [(x - 1)(\sqrt{x^2 - 2x + 6} + \sqrt{x^2 + 2x - 6})]} =
 \end{aligned}$$

$$\begin{aligned}
&= \frac{-4}{\lim_{x \rightarrow 3} (x-1) \lim_{x \rightarrow 3} (\sqrt{x^2 - 2x + 6} + \sqrt{x^2 + 2x - 6})} = \\
&= \frac{-4}{2 \left(\lim_{x \rightarrow 3} \sqrt{x^2 - 2x + 6} + \lim_{x \rightarrow 3} \sqrt{x^2 + 2x - 6} \right)} = \\
&= \frac{-4}{2(3+3)} = \frac{-4}{12} = -\frac{1}{3}.
\end{aligned}$$

□

Ejercicios 3.2.1 Soluciones en la página 16

I. Considerando que $\lim_{x \rightarrow 2} f(x) = -8$, $\lim_{x \rightarrow 2} g(x) = 4$, $\lim_{x \rightarrow 2} h(x) = 0$ y que $\lim_{x \rightarrow 2} \phi(x)$ no existe, calcular los siguientes límites:

1. $\lim_{x \rightarrow 2} [g(x) - f(x)]$.
2. $\lim_{x \rightarrow 2} [f(x) \cdot g(x)]$.
3. $\lim_{x \rightarrow 2} [f(x) + \phi(x)]$.
4. $\lim_{x \rightarrow 2} \frac{g(x)}{f(x)}$.
5. $\lim_{x \rightarrow 2} [f^2(x) - g^3(x)]$.
6. $\lim_{x \rightarrow 2} \frac{f(x)h(x)}{g(x)}$.
7. $\lim_{x \rightarrow 2} \frac{g(x)}{h(x)}$.
8. $\lim_{x \rightarrow 2} [\sqrt{g(x)} + \sqrt[3]{f(x)}]$.
9. $\lim_{x \rightarrow 2} \left[\frac{f(x)}{g(x)} \right]^5$.
10. $\lim_{x \rightarrow 2} [h(x)\sqrt{f(x)}]$.

II. Calcular los límites siguientes:

1. $\lim_{x \rightarrow 4} (-x^2 - 9x - 8)$.
2. $\lim_{x \rightarrow -2} \sqrt{x^4 - 2x + 1}$.
3. $\lim_{x \rightarrow \frac{1}{2}} \frac{x^2 - 3x + 1}{-x^2 + 8x - 3}$.
4. $\lim_{x \rightarrow 1} \left(\sqrt{x} + \frac{1}{\sqrt{x}} \right)^5$.
5. $\lim_{x \rightarrow 6} [(x+4)^3(x-5)^2]$.
6. $\lim_{x \rightarrow -1} (4x^3 + 3x^2 - 2x - 1)$.
7. $\lim_{x \rightarrow \frac{1}{2}} (x^3 - x^2 - x + 1)$.
8. $\lim_{x \rightarrow \frac{2}{3}} (3 - 4x + 5x^2)$.
9. $\lim_{x \rightarrow 0} (3x^2 - 2)^5$.
10. $\lim_{x \rightarrow -3} (6 - x^2)^4$.
11. $\lim_{x \rightarrow 0} \frac{3x^2 - 4x + 5}{6x^2 - 7x + 8}$.
12. $\lim_{x \rightarrow -2} \frac{3x + 2}{x^2 + 4}$.
13. $\lim_{x \rightarrow -1} \frac{x^3 + 1}{x^2 + 1}$.

$$14. \lim_{x \rightarrow -\frac{1}{2}} \frac{(2x - 1)^3}{(4x^2 + 1)^5}.$$

III. Calcular los límites siguientes:

$$1. \lim_{x \rightarrow -1} \frac{x^2 - 1}{x^2 + 3x + 2}.$$

$$2. \lim_{x \rightarrow 2} \frac{x^2 - 4x + 4}{x^2 - 2x}.$$

$$3. \lim_{x \rightarrow 5} \frac{x^2 - 7x + 10}{x^2 - 25}.$$

$$4. \lim_{x \rightarrow 2} \frac{x^3 - 8}{6x^2 - 3x^3}.$$

$$5. \lim_{x \rightarrow a} \frac{x^2 - (a + 1)x + a}{x^3 - a^3}.$$

$$6. \lim_{x \rightarrow 1} \frac{x^4 - 3x^2 + 2}{x^4 + 2x^2 - 3}.$$

$$7. \lim_{x \rightarrow 1} \frac{x^4 - 1}{x^3 - 1}.$$

$$8. \lim_{x \rightarrow 2} \frac{\sqrt{x} - \sqrt{2}}{x - 2}.$$

$$9. \lim_{x \rightarrow 0} \frac{\sqrt{1+x} - \sqrt{1-x}}{x}.$$

$$10. \lim_{x \rightarrow 7} \frac{2 - \sqrt{x-3}}{x^2 - 49}.$$

$$11. \lim_{x \rightarrow 4} \frac{3 - \sqrt{5+x}}{1 - \sqrt{5-x}}.$$

$$12. \lim_{h \rightarrow 0} \frac{\sqrt[3]{x+h} - \sqrt[3]{x}}{h}.$$

$$13. \lim_{x \rightarrow 3} \frac{\sqrt{x^2 - 2x + 6} - \sqrt{x^2 + 2x - 6}}{x^2 - 4x + 3}.$$

$$14. \lim_{x \rightarrow 8} \frac{x - 8}{\sqrt[3]{x} - 2}.$$

$$15. \lim_{x \rightarrow 1} \frac{\sqrt{x} - 1}{x - 1}.$$

$$16. \lim_{x \rightarrow 64} \frac{\sqrt{x} - 8}{\sqrt[3]{x} - 4}.$$

$$17. \lim_{x \rightarrow 1} \frac{\sqrt[3]{x} - 1}{\sqrt[4]{x} - 1}.$$

$$18. \lim_{x \rightarrow 1} \frac{\sqrt{3x+1} - 2x}{x^2 + 2x - 3}.$$

$$19. \lim_{x \rightarrow 0} \frac{x^3 - 3x^2 - 5x}{x^2 - 7x}.$$

$$20. \lim_{x \rightarrow 2} \frac{\sqrt{x+2} - \sqrt{6-x}}{x-2}.$$

$$21. \lim_{x \rightarrow 1} \left(\frac{1}{x-1} - \frac{3}{x^3-1} \right).$$

$$22. \lim_{x \rightarrow 2} \frac{2x - \sqrt{-12x+40}}{3x^2 + x - 14}.$$

$$23. \lim_{h \rightarrow 0} \frac{\sqrt{h+1} - 1}{h}.$$

$$24. \lim_{x \rightarrow 3} \frac{\sqrt{x+1} - 2}{x-3}.$$

$$25. \lim_{x \rightarrow 2} \left(\frac{1}{x-2} - \frac{12}{x^3-8} \right).$$

$$26. \lim_{x \rightarrow 2} \frac{2x^3 - 16}{-3x^2 + 8x - 4}.$$

$$27. \lim_{x \rightarrow 0} \frac{\sqrt{2+x} - \sqrt{2}}{x}.$$

$$28. \lim_{x \rightarrow \frac{2}{3}} \frac{\sqrt{9x+19} - 6x - 1}{6x^2 - 19x + 10}.$$

$$29. \lim_{x \rightarrow 1} \frac{4 - \sqrt{x+15}}{x^2 - 1}.$$

$$30. \lim_{x \rightarrow -2} \frac{x^3 + 8}{x^2 + 5x + 6}.$$

$$31. \lim_{x \rightarrow -3} \frac{2x^2 + 5x - 3}{x^2 - 2x - 15}.$$

32. $\lim_{h \rightarrow 0} \frac{\sqrt{x+h} - \sqrt{x}}{h}$.

33. $\lim_{x \rightarrow 1} \frac{x^2 - x}{x^2 - 1}$.

34. $\lim_{x \rightarrow 1} \frac{3x^2 + 4x - 7}{x^2 - 1}$.

35. $\lim_{x \rightarrow 0} \frac{\sqrt{x+1} - 1}{-\sqrt{x+4} + 2}$.

36. $\lim_{x \rightarrow 1} \frac{x^3 - 2x^2 + 2x - 1}{x - 1}$.

37. $\lim_{x \rightarrow 0} \left(\frac{4}{x} - 3 \right) x$.

38. $\lim_{x \rightarrow 0} \frac{x^3}{\sqrt{x^2 + 25} - 5}$.

39. Considere la función $f(x) = \frac{\sqrt{13 - x^2} - x - 1}{x^2 - 5x + 6}$.

- a. Viendo la tabla de imágenes de f , calcule $\lim_{x \rightarrow 2} f(x)$ con dos cifras decimales exactas:

x	$f(x)$
1.997	1.66096
1.998	1.66286
1.999	1.66476
2	Indeterminado
2.001	1.66858
2.002	1.67049
2.003	1.67241

- b. Calcule exactamente $\lim_{x \rightarrow 2} f(x)$ usando la expresión algebraica de la función.
¿Cuál es la tercera cifra decimal exacta del valor del límite?

Ejercicios 3.2.1 Álgebra de límites, página 13

I.

1. 12.
2. -32.
3. No existe.
4. $-\frac{1}{2}$.
5. 0.
6. 0.
7. No existe.
8. 0.
9. -32.
10. No existe.

II.

1. $\lim_{x \rightarrow 4} (-x^2 - 9x - 8) = -60$.
2. $\lim_{x \rightarrow -2} \sqrt{x^4 - 2x + 1} = \sqrt{21}$.
3. $\lim_{x \rightarrow \frac{1}{2}} \frac{x^2 - 3x + 1}{-x^2 + 8x - 3} = -\frac{1}{3}$.
4. $\lim_{x \rightarrow 1} \left(\sqrt{x} + \frac{1}{\sqrt{x}} \right)^5 = 32$.
5. $\lim_{x \rightarrow 6} [(x + 4)^3(x - 5)^2] = 1000$.
6. $\lim_{x \rightarrow -1} (4x^3 + 3x^2 - 2x - 1) = 0$.
7. $\lim_{x \rightarrow \frac{1}{2}} (x^3 - x^2 - x + 1) = \frac{3}{8}$.
8. $\lim_{x \rightarrow \frac{2}{3}} (3 - 4x + 5x^2) = \frac{23}{9}$.
9. $\lim_{x \rightarrow 0} (3x^2 - 2)^5 = -32$.
10. $\lim_{x \rightarrow -3} (6 - x^2)^4 = 81$.
11. $\lim_{x \rightarrow 0} \frac{3x^2 - 4x + 5}{6x^2 - 7x + 8} = \frac{5}{8}$.
12. $\lim_{x \rightarrow -2} \frac{3x + 2}{x^2 + 4} = -\frac{1}{2}$.
13. $\lim_{x \rightarrow -1} \frac{x^3 + 1}{x^2 + 1} = 0$.
14. $\lim_{x \rightarrow -\frac{1}{2}} \frac{(2x - 1)^3}{(4x^2 + 1)^5} = -\frac{1}{4}$.

III.

1. $\lim_{x \rightarrow -1} \frac{x^2 - 1}{x^2 + 3x + 2} = -2$.
2. $\lim_{x \rightarrow 2} \frac{x^2 - 4x + 4}{x^2 - 2x} = 0$.
3. $\lim_{x \rightarrow 5} \frac{x^2 - 7x + 10}{x^2 - 25} = \frac{3}{10}$.
4. $\lim_{x \rightarrow 2} \frac{x^3 - 8}{6x^2 - 3x^3} = -1$.
5. $\lim_{x \rightarrow a} \frac{x^2 - (a + 1)x + a}{x^3 - a^3} = \frac{a - 1}{3a^2}$.
6. $\lim_{x \rightarrow 1} \frac{x^4 - 3x^2 + 2}{x^4 + 2x^2 - 3} = -\frac{1}{4}$.
7. $\lim_{x \rightarrow 1} \frac{x^4 - 1}{x^3 - 1} = \frac{4}{3}$.
8. $\lim_{x \rightarrow 2} \frac{\sqrt{x} - \sqrt{2}}{x - 2} = \frac{1}{2\sqrt{2}}$.

9. $\lim_{x \rightarrow 0} \frac{\sqrt{1+x} - \sqrt{1-x}}{x} = 1.$
10. $\lim_{x \rightarrow 7} \frac{2 - \sqrt{x-3}}{x^2 - 49} = -\frac{1}{56}.$
11. $\lim_{x \rightarrow 4} \frac{3 - \sqrt{5+x}}{1 - \sqrt{5-x}} = -\frac{1}{3}.$
12. $\lim_{h \rightarrow 0} \frac{\sqrt[3]{x+h} - \sqrt[3]{x}}{h} = \frac{1}{3\sqrt[3]{x^2}}.$
13. $\lim_{x \rightarrow 3} \frac{\sqrt{x^2 - 2x + 6} - \sqrt{x^2 + 2x - 6}}{x^2 - 4x + 3} = -\frac{1}{3}.$
14. $\lim_{x \rightarrow 8} \frac{x - 8}{\sqrt[3]{x} - 2} = 12.$
15. $\lim_{x \rightarrow 1} \frac{\sqrt{x} - 1}{x - 1} = \frac{1}{2}.$
16. $\lim_{x \rightarrow 64} \frac{\sqrt{x} - 8}{\sqrt[3]{x} - 4} = 3.$
17. $\lim_{x \rightarrow 1} \frac{\sqrt[3]{x} - 1}{\sqrt[4]{x} - 1} = \frac{4}{3}.$
18. $\lim_{x \rightarrow 1} \frac{\sqrt{3x+1} - 2x}{x^2 + 2x - 3} = -\frac{5}{16}.$
19. $\lim_{x \rightarrow 0} \frac{x^3 - 3x^2 - 5x}{x^2 - 7x} = \frac{5}{7}.$
20. $\lim_{x \rightarrow 2} \frac{\sqrt{x+2} - \sqrt{6-x}}{x-2} = \frac{1}{2}.$
21. $\lim_{x \rightarrow 1} \left(\frac{1}{x-1} - \frac{3}{x^3-1} \right) = 1.$
22. $\lim_{x \rightarrow 2} \frac{2x - \sqrt{-12x+40}}{3x^2 + x - 14} = \frac{7}{26}.$
23. $\lim_{h \rightarrow 0} \frac{\sqrt{h+1} - 1}{h} = \frac{1}{2}.$
24. $\lim_{x \rightarrow 3} \frac{\sqrt{x+1} - 2}{x-3} = \frac{1}{4}.$
25. $\lim_{x \rightarrow 2} \left(\frac{1}{x-2} - \frac{12}{x^3-8} \right) = \frac{1}{2}.$
26. $\lim_{x \rightarrow 2} \frac{2x^3 - 16}{-3x^2 + 8x - 4} = -6.$
27. $\lim_{x \rightarrow 0} \frac{\sqrt{2+x} - \sqrt{2}}{x} = \frac{1}{2\sqrt{2}}.$
28. $\lim_{x \rightarrow \frac{2}{3}} \frac{\sqrt{9x+19} - 6x - 1}{6x^2 - 19x + 10} = \frac{51}{110}.$
29. $\lim_{x \rightarrow 1} \frac{4 - \sqrt{x+15}}{x^2 - 1} = -\frac{1}{16}.$
30. $\lim_{x \rightarrow -2} \frac{x^3 + 8}{x^2 + 5x + 6} = 12.$
31. $\lim_{x \rightarrow -3} \left(\frac{2x^2 + 5x - 3}{x^2 - 2x - 15} \right) = \frac{7}{8}.$
32. $\lim_{h \rightarrow 0} \frac{\sqrt{x+h} - \sqrt{x}}{h} = \frac{1}{2\sqrt{x}}.$
33. $\lim_{x \rightarrow 1} \frac{x^2 - x}{x^2 - 1} = \frac{1}{2}.$
34. $\lim_{x \rightarrow 1} \frac{3x^2 + 4x - 7}{x^2 - 1} = 5.$
35. $\lim_{x \rightarrow 0} \left(\frac{\sqrt{x+1} - 1}{-\sqrt{x+4} + 2} \right) = -2.$
36. $\lim_{x \rightarrow 1} \frac{x^3 - 2x^2 + 2x - 1}{x-1} = 1.$
37. $\lim_{x \rightarrow 0} \left(\frac{4}{x} - 3 \right) x = 4.$
38. $\lim_{x \rightarrow 0} \frac{x^3}{\sqrt{x^2 + 25} - 5} = 0.$
39. a. Se comprueba que $\lim_{x \rightarrow 2} f(x) = 1.66$;
 b. $\lim_{x \rightarrow 2} f(x) = 1.6667$;
 6 es la tercera cifra decimal del límite.